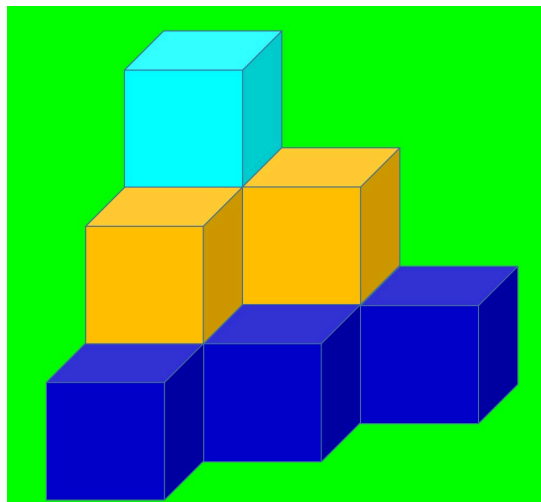


## Solutions des jeux du week-end




Solutions des jeux du week-end

Combien de cubes ci-dessous?

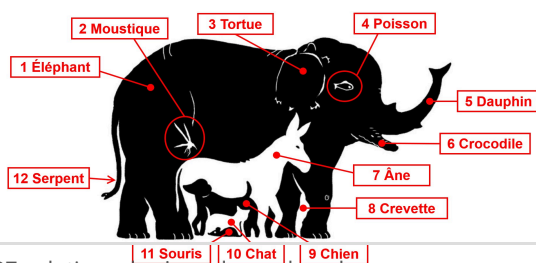


10 CUBES : 6 en bas, 3 au milieu et 1 en haut.


Combien d'animaux dans le dessin ci-dessous?



12 animaux



Quel chiffre doit figurer sous la vache?



Le chiffre 5 : il fallait compter les lettres de chaque nom d'animal !

Alors, comment mettre 10 LAPINS dans 9 cases ?



Comme ça !

